

政治・経済

## 政治・経済

**第1問** 次の文章を読み、下の問い（問1～7）に答えよ。

資本主義の初期には国家の役割を国防や治安維持などに限定した夜警国家が理想とされた。しかし、資本主義が発達するにつれて、その弊害を是正するために国家の役割は拡大していった。20世紀に入ると、夜警国家は社会保障政策の実施などにより広範囲にわたってサービスを提供する福祉国家へと移行した。

社会保障の歴史を振り返ってみると、当初は、国家による慈善・恩恵という性格が強かった。しかし、第一次世界大戦後の生存権思想の広がり、世界恐慌の発生などを背景に、社会保障が制度として整備されるようになっていった。1935年には  で「社会保障」という語が初めて用いられた社会保障法が制定され、1942年には  でナショナル=ミニマムという理念を掲げるベバリッジ報告が公表された。第二次世界大戦後には、<sup>Ⓐ</sup>日本でも本格的に社会保障制度が整備されていった。

しかしながら、現在、<sup>Ⓑ</sup>日本の社会保障制度は岐路にさしかかっている。急速に進む<sup>Ⓒ</sup>高齢化により、医療費の増大や介護などの<sup>Ⓓ</sup>高齢社会特有の問題に直面している。また、高齢化に加えて<sup>Ⓔ</sup>少子化も進んでいることから、現行の<sup>Ⓕ</sup>年金制度が立ち行かなくなるのではないかと不安視されている。現代世代だけでなく、将来世代も含めて、日本に生きるすべての人にとって暮らしやすい社会にすることが、私たちの前にある、大きな課題である。

**問1** 本文中の空欄  ・  に当てはまる語句の組合せとして最も適当なものを、次の

①～④のうちから一つ選べ。

- |   |   |      |   |      |
|---|---|------|---|------|
| ① | ア | ドイツ  | イ | イギリス |
| ② | ア | ドイツ  | イ | フランス |
| ③ | ア | アメリカ | イ | イギリス |
| ④ | ア | アメリカ | イ | フランス |

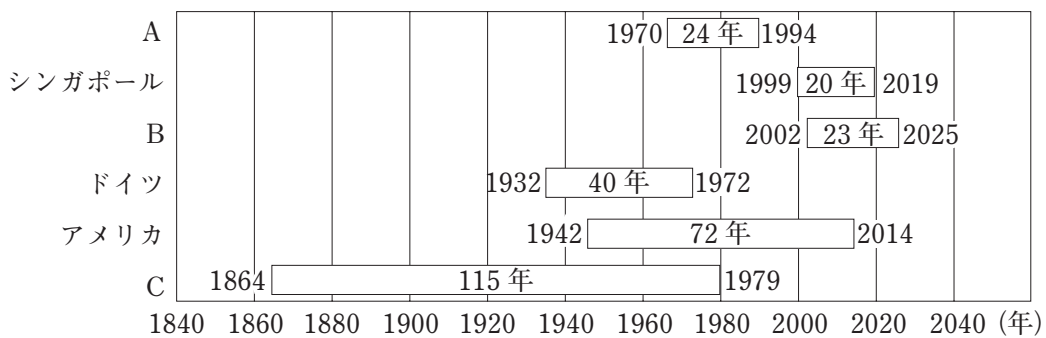
**問2** 下線部<sup>Ⓐ</sup>に関連して、日本における社会保障の発展についての記述として最も適当なものを、次の①～④のうちから一つ選べ。

- ① 1870年代には、最初の社会保険として<sup>じゅうきゅう</sup>恤救規則が制定された。
- ② 1940年代には、日本国憲法に雇用保険制度の創設が明記された。
- ③ 1960年代には、国民皆保険・国民皆年金が実現した。
- ④ 2000年代には、労働者災害補償保険が新設された。

問3 下線部⑥に関して、日本の社会保障についての記述として最も適当なものを、次の①～④のうちから一つ選べ。

- ① 公的扶助を受給している世帯数は、21世紀に入ってからは減少し続けている。
- ② 公衆衛生には、保健所などによる感染症対策も含まれる。
- ③ 社会福祉は税金で賄われており、最後のセーフティネットとよばれている。
- ④ 社会保険の財源は被保険者から全額徴収するとされており、税金は投入されない。

問4 下線部③について、次の図は、主要国における高齢化率が7%から14%になるのに要した期間を示したものである。図中のA～Cの国名の組合せとして最も適当なものを、下の①～⑥のうちから一つ選べ。



(『平成 29 年版高齢社会白書』により作成)

- ① A 中国                      B フランス                      C 日本
- ② A 中国                      B 日本                          C フランス
- ③ A フランス                  B 中国                          C 日本
- ④ A フランス                  B 日本                          C 中国
- ⑤ A 日本                        B 中国                          C フランス
- ⑥ A 日本                        B フランス                      C 中国

問5 下線部④に関して、日本の高齢社会についての記述として最も適当なものを、次の①～④のうちから一つ選べ。

- ① 介護保険の保険料は、満40歳以上の国民が納めることになっている。
- ② 戦後の日本の人口ピラミッドは、つぼ型から富士山型に変化してきている。
- ③ 高年齢者雇用安定法により定年を65歳から70歳に引き上げることが義務づけられた。
- ④ 全世帯に占める高齢者世帯の割合に加え、高齢者一世帯あたりの人数も増加している。

問6 下線部㉔に関連して、日本における少子化や子育てについての記述として最も適切なものを、次の①～④のうちから一つ選べ。

- ① 合計特殊出生率とは、一人の女性が40歳までに出産する子どもの数の平均のことである。
- ② 育児・介護休業法は原則として子が1歳になるまで育児休業が取得できるとし、事業主はその申し出を拒むことができない。
- ③ 人口を維持するためには、合計特殊出生率は1.3以上必要であり、1966年の丙午の年以降、1.3以上に達したことはない。
- ④ 「イクメン」ブームもあり、現在では、男性の育児休業取得率は、女性の取得率とほぼ同水準に上昇している。

問7 下線部㉕に関して、日本の公的年金制度についての記述として最も適切なものを、次の①～④のうちから一つ選べ。

- ① 年金財源の調達方法は、賦課方式から積立方式に変更されている。
- ② 国民年金の未納率は、制度開始以来10%程度で推移してきた。
- ③ 確定拠出型年金は、給付額が一定であるため安定した給付が実現する。
- ④ 厚生年金と共済年金に分かれていたが、厚生年金に統一された。

**第2問** 次の文章を読み、下の問い（問1～7）に答えよ。

ドストエフスキーの代表作に『罪と罰』という小説がある。殺人を犯してしまった主人公の青年ラスコーリニコフが良心の呵責に苦しみながら、自らの罪と向きあい、やがて救われる過程を描いたものである。現実には、複数の人間がいるとトラブルが生じることがあり、不幸なことに深刻なトラブルはしばしば犯罪にたどりついてしまう。

日本では犯罪が発生すると、<sup>Ⓐ</sup>人身の自由<sup>Ⓐ</sup>に注意しながら、捜査、逮捕、勾留、起訴、<sup>Ⓑ</sup>裁判<sup>Ⓑ</sup>という<sup>Ⓒ</sup>刑事手続<sup>Ⓒ</sup>の流れで一般的には進んでいく。その裁判で、審理を中心になって進めていくのが<sup>Ⓓ</sup>裁判官<sup>Ⓓ</sup>である。裁判官は事件に関係する膨大な資料を読み込んだうえで、慎重に裁判を進めなければならない。刑事事件・民事事件を問わず、複雑な科学技術に関する裁判が<sup>Ⓔ</sup>裁判所に持ち込まれる場合もある。日本では21世紀に入って<sup>Ⓕ</sup>裁判員制度<sup>Ⓕ</sup>の導入や法科大学院（ロースクール）の設置など、さまざまな<sup>Ⓖ</sup>司法制度改革<sup>Ⓖ</sup>が行われてきた。近年では、司法制度改革の問題点なども指摘されているが、司法制度改革がめざした「国民の司法参加」などの理念はこれからも追求されていくべきであろう。

**問1** 下線部<sup>Ⓐ</sup>に関連して、日本国憲法に規定されている逮捕や被告人の権利について述べた次の文章中の空欄 ・ に当てはまる語句の組合せとして最も適当なものを、下の①～④のうちから一つ選べ。

日本国憲法第33条には「何人も、現行犯として逮捕される場合を除いては、権限を有する司法官憲が発し、且つ理由となつてゐる犯罪を明示する令状によらなければ、逮捕されない」と規定されている。この規定の司法官憲とは  のことであるが、現行犯逮捕の場合を除いて逮捕には必ず令状が必要なのである。さらに、第37条第2項には「刑事被告人は、…、公費で自己のために強制的な手続により  を求める権利を有する」と規定されている。被告人にとっては自己の無実を明らかにできる機会の保障ともいえるのであり、自分に不利益な供述を拒否することができる権利とともに、重要な権利である。

- |   |   |     |   |     |
|---|---|-----|---|-----|
| ① | ア | 検察官 | イ | 証人  |
| ② | ア | 検察官 | イ | 弁護人 |
| ③ | ア | 裁判官 | イ | 証人  |
| ④ | ア | 裁判官 | イ | 弁護人 |

問2 下線部㉖に関連して、現代日本の裁判についての記述として最も適当なものを、次の①～④のうちから一つ選べ。

- ① 刑事裁判は公開が原則であり、政治犯罪などの事件の対審は常に公開されなければならない。
- ② 民事裁判は、プライバシーの保護や訴訟内容の秘密保持の観点から公開することは常に禁止されている。
- ③ 刑事裁判がいったん開始されると、被告人は保釈されることはなく、必ず刑務所に入らなければならない。
- ④ 民事裁判がいったん開始されると、和解することはできなくなり、必ず判決が出るまで裁判を続ける必要がある。

問3 下線部㉗に関連して、現代の日本において行われている刑事裁判や刑事手続きについての記述として最も適当なものを、次の①～④のうちから一つ選べ。

- ① 実行したときには適法であった行為でも、のちに法律が改正されて違法行為とされると、裁判で有罪となり処罰される場合がある。
- ② 裁判の結果、無罪が確定しても、同じ事件の新たな証拠が発見されると、再び裁判にかけられる。
- ③ 刑事訴訟法には「有罪推定の原則」が規定されており、起訴された被告人は無罪が確定するまで有罪と推定される。
- ④ 裁判で有罪判決を受けて懲役刑を受けた後、再審によって無罪が確定すると、国に対して刑事補償を請求することができる。

問4 下線部㉘について、裁判官に関する日本国憲法の規定の内容として適当でないものを、次の①～④のうちから一つ選べ。

- ① 最高裁判所の裁判官は、国民審査を受けなければならない。
- ② 下級裁判所の裁判官は、内閣が作成した名簿によって任命される。
- ③ 裁判官は相当額の報酬を受け、この報酬は在任中、減額することができない。
- ④ 裁判官は、その良心に従い独立して職権を行い、憲法及び法律にのみ拘束される。

問5 下線部㊦について、A～Cの裁判所と、その裁判所についての記述ア～ウとの組合せとして最も適当なものを、下の①～⑥のうちから一つ選べ。 12

- A 家庭裁判所
- B 地方裁判所
- C 高等裁判所

- ア 簡易裁判所で行われた民事事件の判決に対する控訴審が行われる。
- イ 原則として、3人の裁判官からなる合議体によって審理される。
- ウ 少年法に基づいて、非行を犯した少年の事件について審判が行われる。

- ① A－ア    B－イ    C－ウ
- ② A－ア    B－ウ    C－イ
- ③ A－イ    B－ア    C－ウ
- ④ A－イ    B－ウ    C－ア
- ⑤ A－ウ    B－ア    C－イ
- ⑥ A－ウ    B－イ    C－ア

**問6** 下線部④に関連して、裁判員裁判についての記述A～Cのうち正しいものをすべて選んだとき、その組合せとして最も適当なものを、下の①～⑧のうちから一つ選べ。 13

- A 裁判員裁判は、一定の刑事事件については最高裁判所においても実施される。
- B 裁判員は裁判官とともに有罪か無罪かを決め、有罪の場合は量刑も決定する。
- C 裁判員は一定期間の任期制で選ばれるのではなく、事件ごとに選任される。

- ① AとBとC
- ② AとB
- ③ AとC
- ④ BとC
- ⑤ A
- ⑥ B
- ⑦ C
- ⑧ 正しい記述はない

**問7** 下線部⑤について、21世紀に入ってから日本の司法制度について実施された改革の内容として**適当でないもの**を、次の①～④のうちから一つ選べ。 14

- ① 日本司法支援センター（法テラス）が開設されて、情報提供などをするようになった。
- ② 最高裁判所が、裁判所の内部規律について規則を定めることができるようになった。
- ③ 犯罪被害者や家族が刑事裁判に出席して、質問などができるようになった。
- ④ 一定の刑事事件については、取調べの過程が録画・録音されることになった。



**第3問** 次の文章を読み、下の問い（問1～7）に答えよ。

A：あれ？ きみが持っているスマートフォン、最新の機種だね。

B：そうだよ。先週買ったんだ。よく売れていて、㉑市場にはあまり出回っていないから、手に入れるのに苦労したよ。

A：発売されたばかりで、消費者の㉒需要が増え、㉓商品の生産が追いついていない状況なのだろうね。

B：そうだね。残念ながら㉔市場機構は万能ではないからね。実際、スマホの市場は㉕寡占市場になっていると聞いたことがあるよ。

A：㉖自由競争が行われている以上、寡占や独占が生まれるのは仕方ない部分もあるのかもしれないけれど、消費者に不都合な状況が生じるのは納得いかないな。

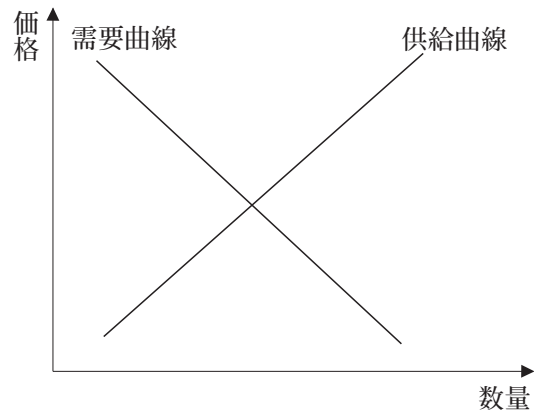
B：独占や寡占などの弊害を防止するために㉗独占禁止法が制定されているけれど、いきすぎた規制は経済を停滞させることになるので、自由で平等な競争が行われるように、私たちも注意していかなければならないね。

**問1** 下線部㉑に関連して、現代の日本の市場についての記述として最も適当なものを、次の

①～④のうちから一つ選べ。 15

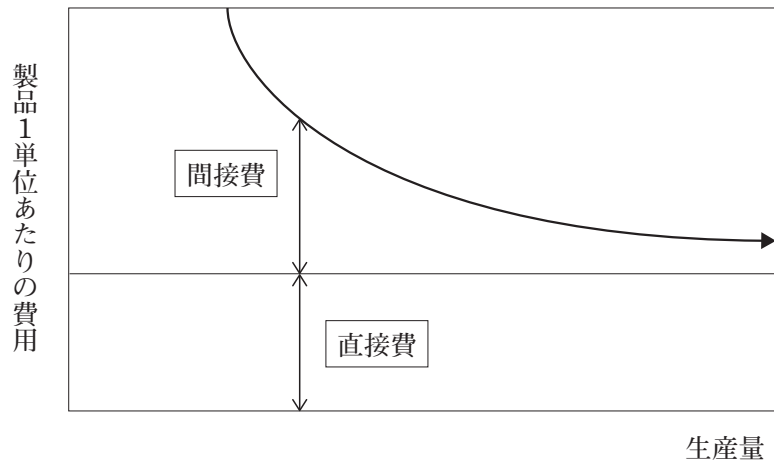
- ① ネットオークションにおいては、法律の規制や運営方法の改善によって、代金をだまし取る詐欺などの被害は発生しなくなった。
- ② 金融市場においては、一般的に、好景気になると、経営者が設備投資を行うなどの理由から資金需要が増えるため、金利は上昇する。
- ③ 労働市場においては、一般的に、不景気になると、商品が売れなくなるため、企業は売り上げを増やそうとして労働者の賃金を上昇させる。
- ④ 外国為替市場においては、一般的に、日本の金利が上昇すると円が買われることになるので、円安傾向が強まることになる。

問2 下線部⑥に関連して、政府が国民の健康増進のために、タバコに関する政策を変化させて、タバコ税の税率を引き上げた場合、理論的に需要曲線と供給曲線はどのように動くと考えられるか。最も適当なものを、下の①～④のうちから一つ選べ。なお、ほかの条件に変化がないものとする。 16



- ① 需要曲線が右の方向に移動する。
- ② 需要曲線が左の方向に移動する。
- ③ 供給曲線が左の方向に移動する。
- ④ 供給曲線が右の方向に移動する。

問3 下線部㉓に関連して、次の図は、製品1単位当たりの費用と生産量の関係を示している。この図が示していることについての下の文章中の空欄  ~  に入る語句の組合せとして最も適当なものを、あとの①~⑧のうちから一つ選べ。



この図において、直接費とは、 や原材料費などであり、製品の生産量の多い少ないにかかわらず製品1単位あたりの費用はほぼ一定である。一方、工場や にかかる費用である間接費は、多額の初期費用がかかるが、生産量を増やしていくにつれて製品1単位あたりの費用は低減していく。したがって、生産量が増大していけば、製品1単位あたりの費用（原価）は低下していくため利益が増えていくことになり、企業はこのような を追求しようとする。

- |   |       |        |            |
|---|-------|--------|------------|
| ① | A 広告費 | B 株式上場 | C 規模の利益    |
| ② | A 広告費 | B 株式上場 | C 産業構造の高度化 |
| ③ | A 広告費 | B 機械   | C 規模の利益    |
| ④ | A 広告費 | B 機械   | C 産業構造の高度化 |
| ⑤ | A 賃金  | B 株式上場 | C 規模の利益    |
| ⑥ | A 賃金  | B 株式上場 | C 産業構造の高度化 |
| ⑦ | A 賃金  | B 機械   | C 規模の利益    |
| ⑧ | A 賃金  | B 機械   | C 産業構造の高度化 |

問4 下線部㉔に関連して、市場の限界（市場の失敗）についての記述A～Cのうち正しいものをすべて選んだとき、その組合せとして最も適当なものを、下の①～⑧のうちから一つ選べ。

18

- A 警察や消防、公園などの公共財は、民間企業によっては供給されにくいので、政府が供給している。
- B 鉄道の新しい駅ができたため、駅周辺の空き地に家が建ち、街灯が設置されて夜間も明るく安全になるのは、外部不経済とよばれる。
- C 商品やサービスについて、企業が豊富な情報を保有しているのに対して消費者は少ない情報しか持っていないことは、情報の非対称性とよばれる。

- ① AとBとC
- ② AとB
- ③ AとC
- ④ BとC
- ⑤ A
- ⑥ B
- ⑦ C
- ⑧ 正しい記述はない

問5 下線部㉕についての記述として最も適当なものを、次の①～④のうちから一つ選べ。

19

- ① デザインやアフターサービスなどによる非価格競争が行われやすくなる。
- ② 価格の下方硬直性がみられるため、価格が継続的に下がり続けることになる。
- ③ 有力な大企業がプライスリーダーとなって価格を先導的に決定することもあり、その価格は統制価格とよばれる。
- ④ 市場を支配している企業の数が少ないので、企業の新規参入が容易である。

問6 下線部④に関連して、次の文章は、高校の授業で紹介されたある経済学者が述べた文章と、その文章中に登場する用語についての先生の解説である。この経済学者として最も適切なものを、下の①～④のうちから一つ選べ。 20

【経済学者の言葉】

もちろん、かれはふつう、社会一般の利益を増進しようなどと意図しているわけではないし、また自分が社会の利益をどれだけ増進しているのかもしれない。…。だが、こうすることによって、かれは、他の多くの場合と同じく、この場合にも、見えざる手に導かれて、みずからは意図してもいなかった一目的を促進することになる。…。自分の利益を追求することによって、社会の利益を増進しようと真に意図する場合よりも、もっと有効に社会の利益を増進することもしばしばあるのである。

【先生の説明】

ここに登場する「見えざる手」とは、利己心に基づいた個人の経済活動を社会全体の経済的利益につなげるメカニズム、すなわち市場の自動調整メカニズムとして理解されています。

- ① シュンペーター
- ② マルクス
- ③ ケインズ
- ④ アダム＝スミス

問7 下線部⑤についての記述として適当でないものを、次の①～④のうちから一つ選べ。

21

- ① 独占禁止法の目的達成のために、行政委員会として公正取引委員会がおかれている。
- ② 新聞や書籍などについては、メーカーが決定した販売価格を小売業者らに維持させることが認められている。
- ③ 日本版金融ビッグバンが進められたことを受けて独占禁止法が改正され、持株会社が解禁された。
- ④ 倒産の恐れがある企業については、その企業が公共工事の受注業者になるように企業同士で相談する談合が認められている。

**第4問** 次の手紙を読み、下の問い（問1～7）に答えよ。

先生、お久しぶりです。お元気ですか。

高校時代に先生の「政治・経済」の授業を受けて、国際政治に興味を持った私は、現在は法学部で学んでいます。

先生の授業では、特に①人権や②法の支配の考え方が歴史的に獲得されてきた過程に感銘を受けました。ホッブズから始まる③社会契約説、そして市民革命や④人権宣言などは、いうまでもなく、時の権力者や支配層との闘いの中で獲得されてきたもので、その歩みは⑤日本国憲法につながります。私は、改めて私たちが保持している人権は日本国憲法第97条に規定されており「人類の多年にわたる自由獲得の努力の成果」であることを認識しました。

第二次世界大戦後には、国際的に人権を保障しようとする動きが高まり、世界人権宣言をはじめとして、さまざまな⑥人権に関する条約が結ばれ、日本でも国内法の整備が進められてきました。しかしながら、人権保障に関する⑦世界各国の足並みは揃っていないのが現状です。

世界は、そして日本は、この先どのような社会をつくっていくのでしょうか。私は大学での勉強を通して、社会についてしっかり考える力を身につけ、卒業後はよりよい世界と日本をつくるために貢献していきたいと思っています。

**問1** 下線部①に関連して、これまでに獲得されてきた権利A～Cとその説明ア～ウとの組合せとして最も適当なものを、下の①～⑥のうちから一つ選べ。 22

- A 参政権
- B 社会権
- C 自由権

- ア 人間らしく生きるために国家権力の積極的な関与を求める権利
- イ 国民による政治を実現するための権利
- ウ 信仰など個人の私的領域への国家権力の干渉をできるだけ排除しようとする権利

- ① A－ア    B－イ    C－ウ
- ② A－ア    B－ウ    C－イ
- ③ A－イ    B－ア    C－ウ
- ④ A－イ    B－ウ    C－ア
- ⑤ A－ウ    B－ア    C－イ
- ⑥ A－ウ    B－イ    C－ア

問2 下線部③についての記述として最も適当なものを、次の①～④のうちから一つ選べ。

23

- ① 王権神授説に基づいて、国王の支配こそ望ましく、国王が定めたルールだけが法であるという考え方。
- ② 法は国民の権利や自由を守るためにあり、政治は法に基づいて行われなければならないという考え方。
- ③ 法の目的や内容よりも、法が議会で制定されたということの形式を重視する考え方。
- ④ 「法は最小限の道徳」という言葉に基づいて、人は常に法を遵守する心を持って行動すべきだという考え方。

問3 下線部④に関連して、社会契約説の思想家の一人であるロックの思想として最も適当なものを、次の①～④のうちから一つ選べ。 24

- ① もし同一の人間あるいは同一の団体が立法権、執行（行政）権、司法権を行使するならば、すべては失われるだろうと述べた。
- ② 自然状態では各人の自由が衝突して「万人の万人に対する闘争」状態になるため、各人は自然権を放棄し、全面的に統治者に委ねる必要があるとした。
- ③ 各人は自然権を譲渡することで国家をつくり、公共の利益をめざす人民の意思である一般意思によって政治は行われるべきであると主張した。
- ④ 政府の権力は自然権を保障するために国民から信託されたものであり、政府がその信託に反して自然権を侵害することがあれば国民には抵抗権（革命権）が認められると考えた。

問4 下線部④に関連して、ワイマール憲法の規定として最も適当なものを、次の①～④のうちから一つ選べ。 25

- ① 所有権は義務をともなう。その行使は、同時に公共の福祉に役立つべきである。
- ② 権利の保障が確保されず、権力の分立が規定されないすべての社会は、憲法をもつものでない。
- ③ われわれは、自明の真理として、すべての人は平等に造られ、造物主によって、一定の奪いがたい天賦の権利を付与され、そのなかに生命、自由および幸福の追求の含まれることを信ずる。
- ④ 国王は、王権により、国会の承認なしに法律（の効力）を停止し、または法律の執行を停止し得る権限があると称しているが、そのようなことは違法である。

問5 下線部㉔)についての記述として最も適当なものを、次の①～④のうちから一つ選べ。

26

- ① 日本国憲法が成立する際は、マッカーサー草案（GHQ草案）をもとに作成された松本案が政府の改正案として帝国議会に提出された。
- ② 日本国憲法のほかにも重要な公法が存在しているため、日本国憲法は不文憲法及び軟性憲法に分類されている。
- ③ 日本国憲法は、国務大臣や国会議員、公務員などには憲法を尊重し擁護する義務があると規定している。
- ④ 日本国憲法には、憲法改正案への賛否を問うための国民投票が有効とされるために必要な最低投票率が規定されている。

問6 下線部㉕)について述べた次の文章中の空欄 [ア]・[イ] に当てはまる語句の組合せとして最も適当なものを、下の①～④のうちから一つ選べ。 27

1948年に世界人権宣言が国連総会で採択されて以来、多くの人権に関する条約が締結されてきた。1966年には人権の保障のために法的拘束力を持たせた国際人権規約が採択され、日本も一定の留保をしながらも1979年に批准した。その1979年には [ア] が採択され、日本は1985年に批准した。その際、日本は法律の整備などを行った。21世紀に入ってから、2006年には強制失踪条約や [イ] が採択され、日本はそれぞれ2009年と2014年に批准した。

- |                 |            |
|-----------------|------------|
| ① ア 女子（性）差別撤廃条約 | イ 子どもの権利条約 |
| ② ア 女子（性）差別撤廃条約 | イ 障害者の権利条約 |
| ③ ア ジェノサイド条約    | イ 子どもの権利条約 |
| ④ ア ジェノサイド条約    | イ 障害者の権利条約 |

問7 下線部㉖)に関連して、各国の政治制度についての記述として適当でないものを、次の①～④のうちから一つ選べ。 28

- ① ドイツには大統領がいるが、その職務は儀礼的・形式的な行為に限られている。
- ② 中国では、国家の最高権力機関は全国人民代表大会（全人代）とされている。
- ③ イギリスには国王がいるが、「君臨すれども統治せず」という伝統が続いている。
- ④ 韓国では、国民の選挙によって選ばれた首相が大統領より強い権限を持っている。



**第5問** 次の文章を読み、下の問い（問1～7）に答えよ。

もし貿易が突然ストップしたら、私たちの生活はどうなるだろうか。このような事態を考えると、大きな不安に包まれる。私たちの日々の暮らしの多くは貿易に依存しているからである。

国際分業に基づく<sup>Ⓐ</sup>自由貿易を行う両国はお互いに利益を受けるという考え方を理論化したのが、経済学者の<sup>ア</sup>である。彼の考えは比較生産費説として知られている。なお、国際分業には二つの型があり、先進国間では工業製品を交換し合う<sup>イ</sup>が行われている。

実際のところ、日本の高度経済成長は貿易なしではありえなかった。安価で豊富な原油や原材料を輸入できたこと、戦後に相次いで独立した<sup>Ⓑ</sup>アジア諸国への輸出が拡大したこと、また1ドル＝360円という輸出に有利な<sup>Ⓒ</sup>為替レートが設定されていたことなどが、日本の高度経済成長の国際的な要因とされている。1960年代前半までは、<sup>Ⓓ</sup>国際収支の天井により、日本の貿易は停滞することがあったが、1968年には日本はG N P（国民総生産）が西側で世界第2位になり、経済大国として<sup>Ⓔ</sup>国際社会において確固たる地位を築くことになった。それから半世紀以上が経過し、<sup>Ⓕ</sup>国際経済はグローバル化の大波にもまれている。日本は、これからも安定した社会を維持できるのだろうか。そのためには、世界各国との良好な関係を築くことが不可欠ではないだろうか。

**問1** 本文中の空欄<sup>ア</sup>・<sup>イ</sup>に当てはまる語句の組合せとして最も適当なものを、次の

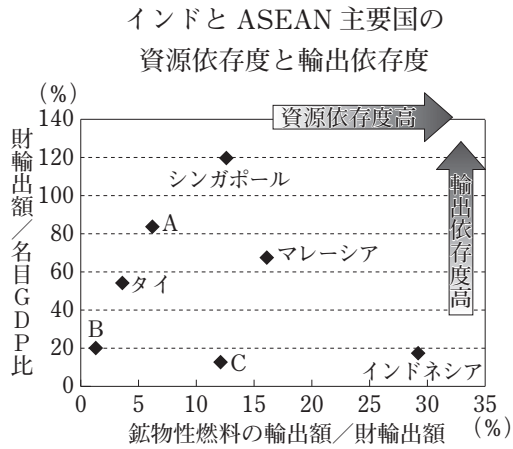
①～④のうちから一つ選べ。<sup>29</sup>

- |   |   |      |   |       |
|---|---|------|---|-------|
| ① | ア | リスト  | イ | 水平的分業 |
| ② | ア | リスト  | イ | 垂直的分業 |
| ③ | ア | リカード | イ | 水平的分業 |
| ④ | ア | リカード | イ | 垂直的分業 |

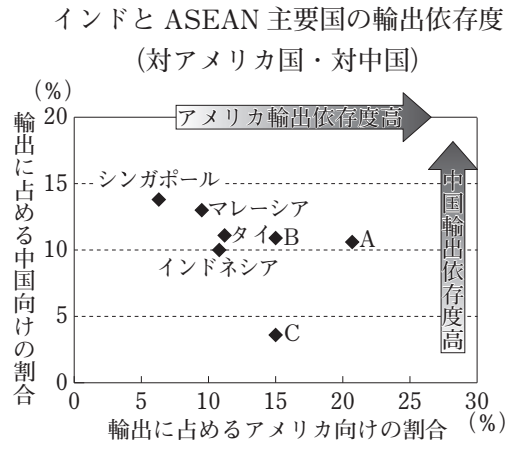
**問2** 下線部<sup>Ⓐ</sup>に関連して、自由貿易に関する国際的な取り組みについての記述として最も適当なものを、次の①～④のうちから一つ選べ。<sup>30</sup>

- ① G A T T（関税及び貿易に関する一般協定）では、非関税障壁の低減に力を注いだが、関税の引き下げに取り組むことはなかった。
- ② W T O（世界貿易機関）では、モノの貿易だけでなく、知的財産権やサービス貿易などについてのルール化も行っている。
- ③ 二国間あるいは地域的統合間で関税などの貿易障壁を撤廃する協定をE P Aといい、これに加えて投資などより広い分野での協定をF T Aという。
- ④ T P P（環太平洋パートナーシップ）は、一度は合意したものの、アメリカのトランプ大統領が離脱を表明したために、T P Pに関する合意は撤回された。

問3 下線部⑥に関連して、下の文ア・イを参考にして、次の二つの図のA～Cの国名の組合せとして最も適当なものを、あとの①～⑥のうちから一つ選べ。 31



2015年ベース（インドネシアとベトナムの鉱物性燃料／財輸出額のみ、2014年ベース）。  
なお、鉱物性燃料は、SITC分類 rev.3の section 3 (mineral fuels) をさす。



2015年数値。

(『通商白書 2017』により作成)

ア ベトナムは、外資系企業による輸出が経済成長に大きく寄与しているので、輸出依存度はインドとフィリピンに比べて高いね。

イ フィリピンとインドは、アメリカへの輸出が占める割合は同じ程度だけど、フィリピンの方が中国への輸出依存度が高いね。

- |   |         |         |         |
|---|---------|---------|---------|
| ① | A ベトナム  | B インド   | C フィリピン |
| ② | A ベトナム  | B フィリピン | C インド   |
| ③ | A インド   | B ベトナム  | C フィリピン |
| ④ | A インド   | B フィリピン | C ベトナム  |
| ⑤ | A フィリピン | B ベトナム  | C インド   |
| ⑥ | A フィリピン | B インド   | C ベトナム  |

問4 下線部㉔に関連して、Aさんは100万円をドルに両替して、アメリカの銀行に1年定期、利率5%で預けた。そのときの為替レートは、1ドル＝100円であった。1年後に満期になったので、解約して円に両替した。そのとき、為替レートは1年前に比べて、5円の円安ドル高になっていた。Aさんが受け取る利息は、日本円ではいくらの損失が出ているか、あるいは利益が出ているか。最も適当なものを、次の①～④のうちから一つ選べ。なお、手数料などは一切考えないものとする。 32

- ① 2500円の損失が出ている
- ② 2500円の利益が出ている
- ③ 102500円の損失が出ている
- ④ 102500円の利益が出ている

問5 下線部㉕に関連して、日本の国際収支についての記述として最も適当なものを、次の①～④のうちから一つ選べ。 33

- ① 日本国内を旅行する外国人が増加して消費が増えることは、貿易・サービス収支のプラス化の要因となる。
- ② 政府が保有している外国の国債からの利子を受け取ることは、第一次所得収支のマイナス化の要因となる。
- ③ 日本の企業が海外で工場を建設するために送金することは、金融収支のマイナス化の要因となる。
- ④ 政府が発展途上国に医薬品や食料などを送ることは、第二次所得収支のプラス化の要因となる。

問6 下線部㉖に関連して、第二次世界大戦後の国際社会や日本で起こった出来事についての記述として**適当でないもの**を、次の①～④のうちから一つ選べ。 34

- ① 1970年代には第一次石油危機が発生して日本経済は大きな打撃を受け、戦後初めてマイナス成長に陥る結果になった。
- ② 1970年代にアメリカのニクソン大統領が金とドルの交換停止を発表して世界に衝撃を与えたことは、ニクソン・ショックとよばれている。
- ③ 1990年代にタイの通貨バーツが暴落したことから、インドネシアや韓国などで金融危機が発生したことは、アジア通貨危機とよばれている。
- ④ 2000年代にはリーマン・ショックによりアメリカ経済は大きな打撃を受けたので、その後サブプライムローン問題が発生して、金融機関が次々と破綻した。

問7 下線部④に関連して、次のA～Dは、国際経済体制にかかわる出来事についての記述である。これらの出来事を古いものから順に並べたとき、3番目にくるものとして正しいものを、下の①～④のうちから一つ選べ。 35

- A 変動為替相場制を正式に承認した。
- B G5の会議でプラザ合意が成立した。
- C ブレトン・ウッズ協定が調印された。
- D 円が1ドル79円の最高値を記録した。

- ① A
- ② B
- ③ C
- ④ D

(政治・経済の問題は終わり)